

1

あわせていくつ ふえるといくつ

1ねん

くみ

なまえ

あわせてなんびき？



① めだかが 2ひき います。

あとから 3ひき ふえました。あわせて なんびきですか。

しき

=

こたえ ひき



② もう4ひき ふえました。ぜんぶで なんひきですか。

しき

=

こたえ ひき

# 2

## あわせていくつ ぶえるといくつ





1ねん

くみ

なまえ

### なんびきになるかな？

◎さかなつりをしました。

	1かいめ	2かいめ
うめまるさん	3びき 	1びき 
きんじろうさん	2びき 	0びき
かまぼこさん	0びき	1びき 
そううんさん	0びき	0びき

① 1かいめと 2かいめに つた かずを あわせると、なんびきになりますか。

うめまるさん  $3+1=4$  4 ひき

きんじろうさん  $2+0=$   ( ) ひき

かまぼこさん  $0+1=$   ( ) ひき

そううんさん  $0+0=$   ( ) ひき

② 1かいめと 2かいめに つた かずの ちがいは、なんびきですか。

うめまるさん  $3-1=2$  2 ひき

きんじろうさん  $2-0=$   ( ) ひき

かまぼこさん  $1-0=$   ( ) ひき

そううんさん  $0-0=$   ( ) ひき

3

のこりは いくつ ちがいは いくつ

1ねん

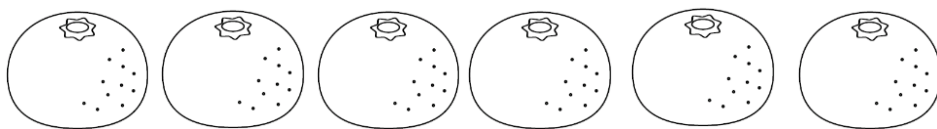
くみ

なまえ

のこいはいくつ？ちがいはいくつ？

① みかんが 6こ あります。

2こ たべると、 いくつ のこりますか。



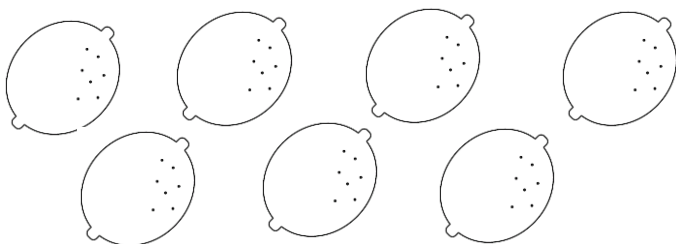
しき

=


こたえ      こ

② れもんと きういが あります。

どちらが いくつ おおいですか。



7こ



3こ

しき

=

こたえ      が      こ おおい

# 4

## 10より おおきい かずを かぞえよう

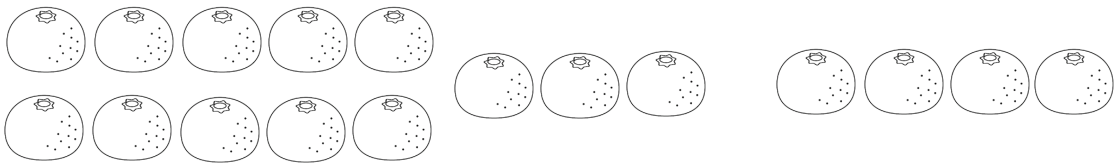
1ねん

くみ

なまえ

### 20までの たしざん・ひきざん

- ① みかんが 13こ ありました。うめまるくんが 4こ もってきました。あわせると いくつに なりますか。

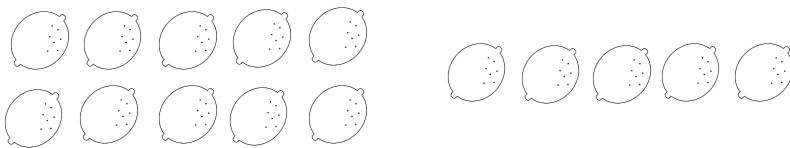


しき

=

こたえ      こ

- ② れもんが 15こ あります。うめまるくんに 4こ あげると いくつ のこりますか。



しき

=

こたえ      こ

# 5

## たしたり ひいたり してみよう

1ねん

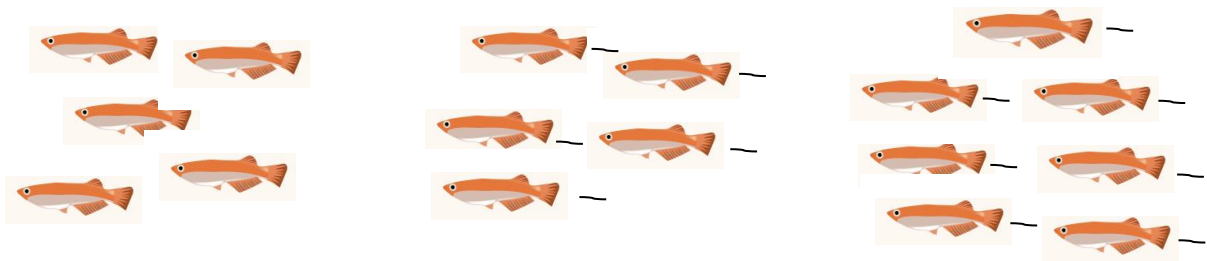
くみ

なまえ

### ぜんぶでなんひき？

① はじめに めだかが 5ひきいます。つぎに 5ひき ぶえました。

そのつぎに 7ひき ぶえました。ぜんぶで なんひきですか。



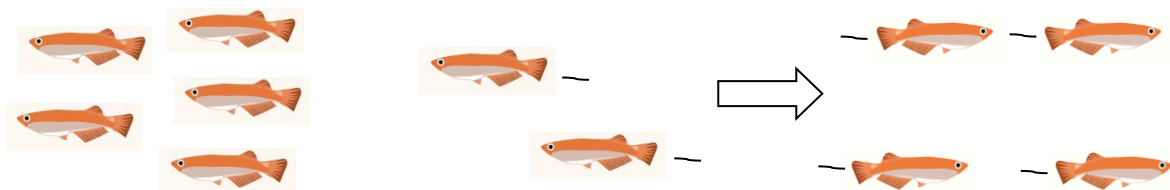
しき

=

こたえ ひき

② はじめに めだかが 5ひきいます。つぎに 2ひき ぶえました。

そのつぎに 4ひき いなくなりました。ぜんぶで なんひきですか。



しき

=

こたえ ひき

# 6

## たしざん

1ねん


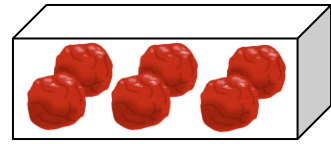
くみ

なまえ

### けいさんの しかたを かんがえよう

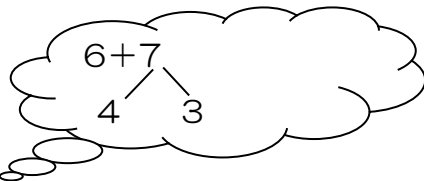
- ① うめぼしが しかくい はこに 6こ、まるい はこに 7こ はいって います。

あわせて なんこ ありますか。



しき

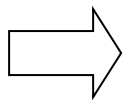
	=	
--	---	--



こたえ                      こ

- ② □に はいる かずを かきましょう。

6+7



7を		と		に わける。
6に		を たして	10	
10と		で		

# 7

## ひきざん

1ねん

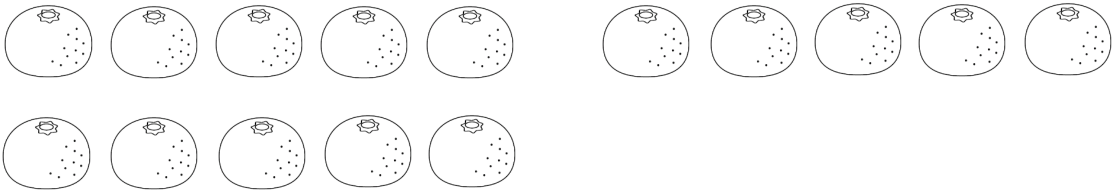
くみ

なまえ

### けいさんの しかたを かんがえよう

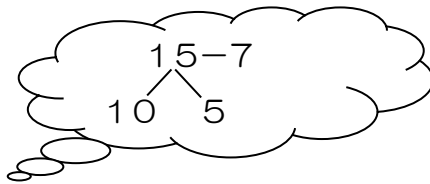
① みかんが 15こ あります。7こ たべました。

のこりは なんこ ありますか。



しき

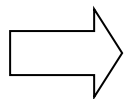
=



こたえ      こ

② □に はいる かずを かきましょう。

15-7



15を □ と □ に わける。

□ から □ を ひいて 3

3と □ で □

# 8

## くらべてみよう

1ねん


くみ

なまえ

### どちらがながい？どちらがおおい？

(1) どちらが ながいですか。

① しろ

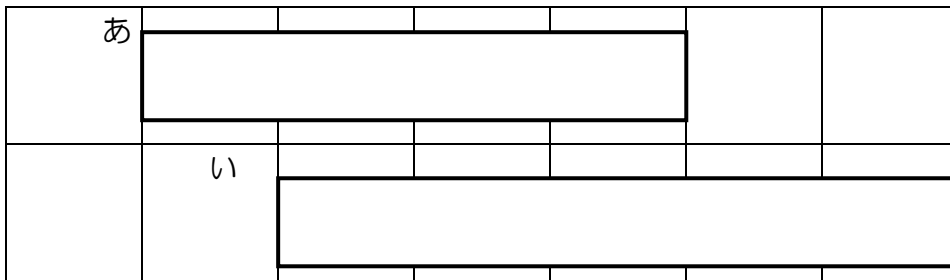


くろ



こたえ

②

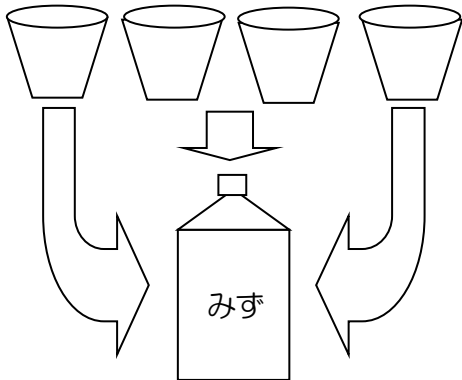


こたえ

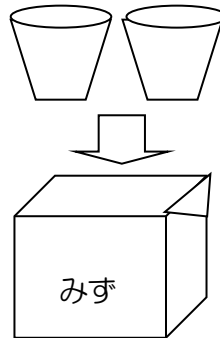
(2) どちらが おおいですか。

① みずが おおく はいっているのは どちらですか。

㊦



㊧



㊦の こップには、  
みずが 4はい。  
㊧の こップには、  
みずが 2はい  
はいて いるよ。



こたえ



9

# くらべてみよう

1ねん

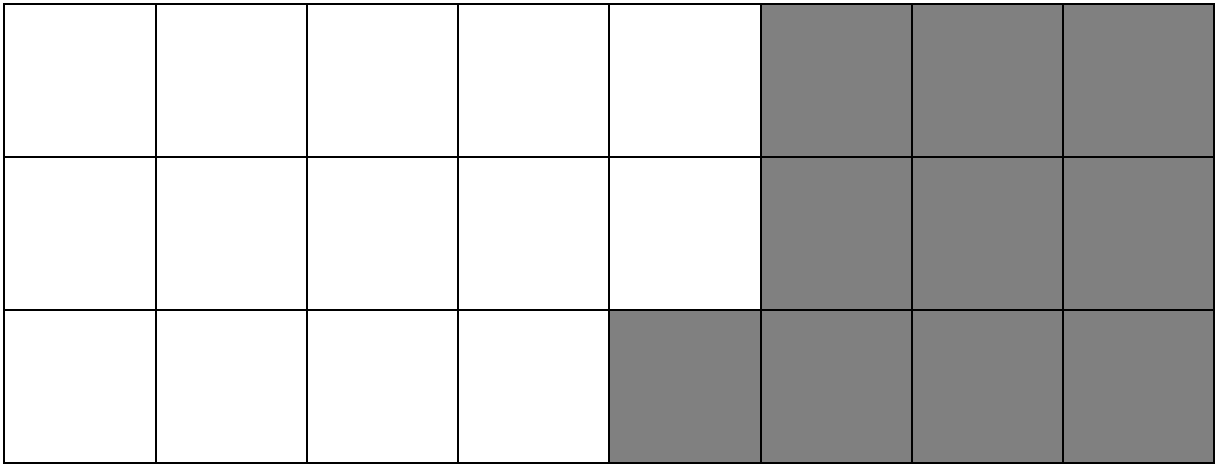
くみ

なまえ

## どちらが ひろいかな？

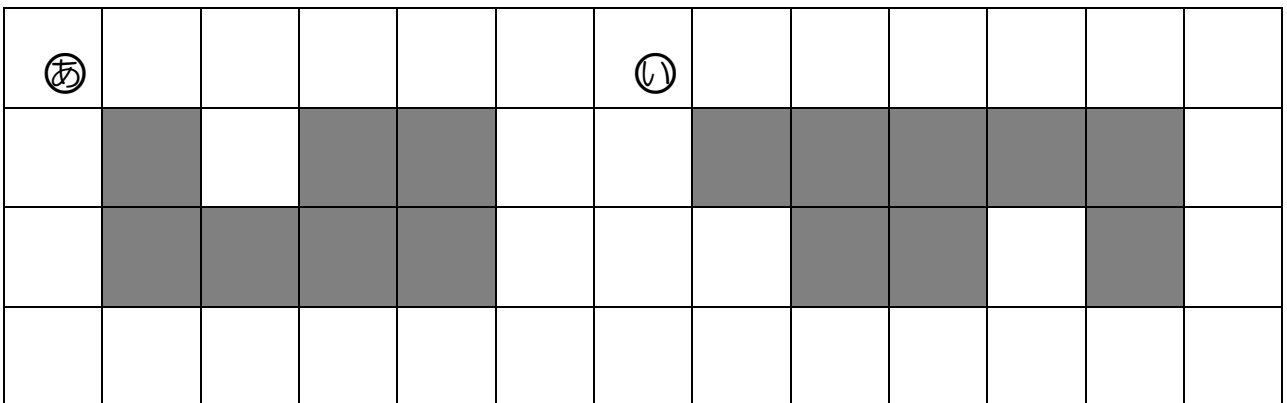
◎ どちらが ひろいか くらべましょう。

① <sup>しろ</sup>白 と <sup>くろ</sup>黒 どちらが ひろいですか。



こたえ

② ㊦ と ㊧ どちらが ひろいですか。



こたえ

## 10

## 20より大きいかずをかぞえよう

1ねん

くみ

なまえ

## かずの大きさに きをつけて

- ◎ ( ) に あてはまる かずを かきましょう。
- ① 96 → 97 → ( ) → 99 → ( )
- ② 53 → ( ) → 51 → 50 → ( )
- ③ 60 → ( ) → 80 → 90 → ( )
- ④ 70より 1大きい かずは ( ) です。
- ⑤ 50より 1小さい かずは ( ) です。
- ⑥ 100より 1小さい かずは ( ) です。
- ⑦ 80と あと ( ) で 100に なります。
- ⑧ 94と あと ( ) で 100に なります。
- ⑨ 86は 10を ( ) つと 1を ( ) つ  
あわせた かずです。
- ⑩ 10円が 3まいと 1円が 4まいで  
( ) 円に なります。

# 11

## 20より大きいかずをかぞえよう

1ねん

くみ

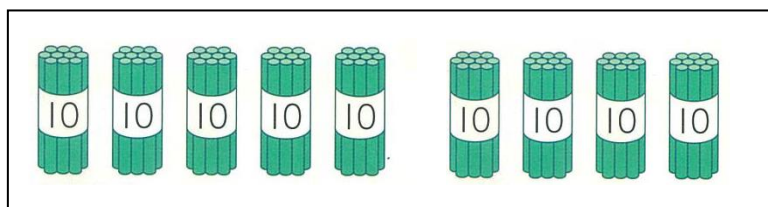
なまえ

### いくつになるかな？


- ① みかんあじの あめが 50こ と れもんあじの あめが 40こ あります。  
あわせて なんこですか。

しき

=



が 5+4で...



こたえ

こ

- ② うめぼしが 32こ あります。6こ もらうと、あわせて なんこに  
なりますか。

しき

=

こたえ

こ

- ③ みかんが 29こ あります。7こ たべると、なんこ のこりますか。

しき

=

こたえ

こ

12

たすのかな ひくのかな ずにかいて かんがえよう

1ねん

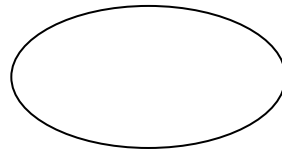
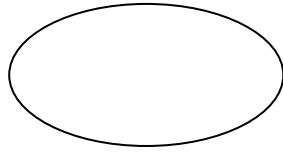
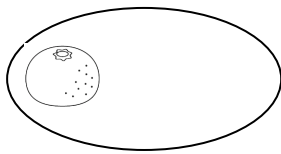
くみ

なまえ

## おなじ かずずつ あげると？

- ① 3人の こどもに みかんを 3こずつ あげます。  
 みんなで なんこ いりますか。 えや しきに かいて  
 かんがえましょう。


え

こたえ      こ

しき

- ② うめぼしが 15こ あります。1人に 3こずつ あげると  
 なん人に あげられますか。えにかいて かんがえましょう。

え

こたえ      人

しきに かいて たしかめると  
 $3 + 3 + 3 + 3 + 3$  だね!



# 13

## たすのかな ひくのかな ずにかいて かんがえよう

1ねん

くみ

なまえ

### いくつになるかな？

- ① みかんがりを しました。 きんじろうさんは 9こ とりました。  
 そううんさんは きんじろうさんより 6こ おおく とりました。  
 そううんさんは なんこ とりましたか。

しき

=

こたえ

こ

- ② おはなつみで うめまるさんは 12<sup>ほん</sup>本 とりました。  
 かまぼ子<sup>こ</sup>さんは うめまるさんより 3<sup>ほん</sup>本 すくなく とりました。  
 かまぼ子<sup>こ</sup>さんは なん<sup>ほん</sup>本 とりましたか。

しき

=

こたえ

ほん  
本